



ESCOLA MUNICIPAL DR. VITÓRIO FRANKLIN

PROFESSORA: LUCI ANE FERNANDES TURMA: Sala de Recurso B - Grupo 2

COMPONENTES CURRICULARES: LÍNGUA PORTUGUESA E MATEMÁTICA.

NOME : _____

PERÍODO DE REALIZAÇÃO: 10 a 14 de maio de 2021

O QUE VOCÊ VAI ESTUDAR:	<ul style="list-style-type: none">• Língua Portuguesa: Produção de texto. Ortografia nh, ch, lh.• Matemática: situações problemas e operações.
PARA QUE VAMOS ESTUDAR ESSES CONTEÚDOS?	<ul style="list-style-type: none">• Língua Portuguesa: Escrever um texto narrativo a partir de uma figura do liga pontos. Ler e classificar palavras escritas com nh, ch e lh.• Matemática: Interpretar as situações problemas e resolvê-las. Percorrer uma trilha envolvendo as quatro operações matemáticas.
COMO VAMOS ESTUDAR OS CONTEÚDOS?	<ul style="list-style-type: none">• Lendo e respondendo as atividades propostas pela professora com capricho e assistindo vídeos.

LÍNGUA PORTUGUESA

1 – Ligue os números, pinte o desenho e escreva um texto bem bonito sobre ele. Não esqueça de colocar o título, os pontos e deixar espaço para começar os parágrafos.



SECRETARIA MUNICIPAL DE EDUCAÇÃO
ATIVIDADES COMPLEMENTARES DE ESTUDO – COVID 19





SECRETARIA MUNICIPAL DE EDUCAÇÃO
ATIVIDADES COMPLEMENTARES DE ESTUDO – COVID 19




**2- PREENCHA O QUADRO COM AS PALAVRAS ABAIXO.
OBSERVE OS MODELOS:**



SECRETARIA MUNICIPAL DE EDUCAÇÃO

ATIVIDADES COMPLEMENTARES DE ESTUDO – COVID 19

NINHO	GALINHA	CACHOEIRA
LINHA	MULHER	CHUVEIRO
MACHADO	PINTINHO	BANHO
COELHA	TELHA	LANCHE
OLHO	ILHA	CACHORRO
COLHER	AGULHA	BORRACHA
CHUVA	UNHA	CHAVE
MEDALHA	PUNHO	VINHO

CHAPÉU 	MINHOCA 	ABELHA 

MATEMÁTICA



ATIVIDADES COMPLEMENTARES DE ESTUDO – COVID 19

1. Alice convidou 98 crianças para sua festa de aniversário. 75 crianças confirmaram que poderão participar da festa. As restantes crianças disseram que não terão como participar.

Das crianças convidadas, quantas não participarão do aniversário de Alice?



Resposta:

Cálculo:

2. Para entrar em casa, João precisa subir 16 degraus. Da hora em que acorda até a hora de dormir, ele sobe esses degraus 3 vezes. Quantos degraus João sobe durante o dia?



Resposta:

Cálculo:



ATIVIDADES COMPLEMENTARES DE ESTUDO – COVID 19

3 . Ana Paula quer doar 60 bonecas para 3 meninas que moram na sua rua. Ela quer que cada uma das meninas receba o mesmo número de bonecas.

Quantas bonecas cada menina deve receber?



Resposta:

Cálculo:

4. Paulinho começou a fazer uma coleção de carrinhos. A cada mês do ano ele comprará um carrinho novo.

Quantos anos ele levará para ter 48 carrinhos?

Lembrando que um ano tem 12 meses.



Resposta:

Cálculo:



- Percorra a trilha resolvendo os fatos das quatro operações.

	7	x	4	=		+	4	=	
									:
	16	-		=	12	x		=	8
	=								
		+	49	=		:	9	=	
									x
	10	:		=	13	-		=	7
	=								
		x	11	=		:	5	=	
									+
	8	x		=	7	:		=	38
	=								
	56	-	28	=		x	5	=	
									:
	14	:		=	8	x		=	4
	=								
	+	44	=		:	8	=		